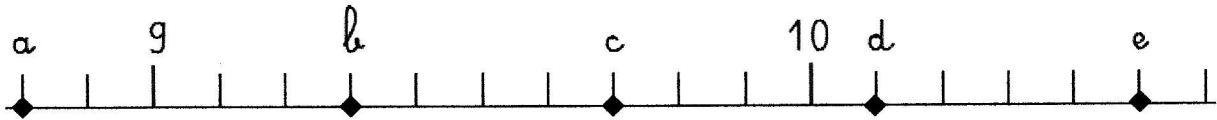



MATHÉMATIQUES CM1 CM2

1°) Indique par un nombre la position des points sur cette droite graduée en dixièmes:



a: 0,8... g: 0,8... b: 9,3... c: 9,7... d: 10,1... e: 10,5...

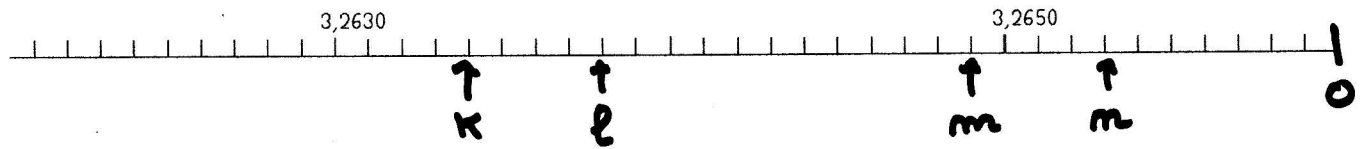
2°) Indique par un nombre la position des points sur cette droite graduée en centièmes:



f: 7,47... g: 7,52... h: 7,64... i: 7,70... j: 7,81...

3°) Place les points ci-dessous sur la droite graduée :

k: 3,2634 ■ l: 3,2638 ■ m: 3,2649 ■ n: 3,2653 ■ o: 3,2660



4°) Résous le problème suivant.

7 petits pains identiques pèsent 840 g.

Combien pèsent 4 petits pains ?

~~Fa peux commencer par calculer le prix de 1 pain.~~

1 pain pèse : 120 g  
4 pains pèsent : 480 g

5° Géométrie