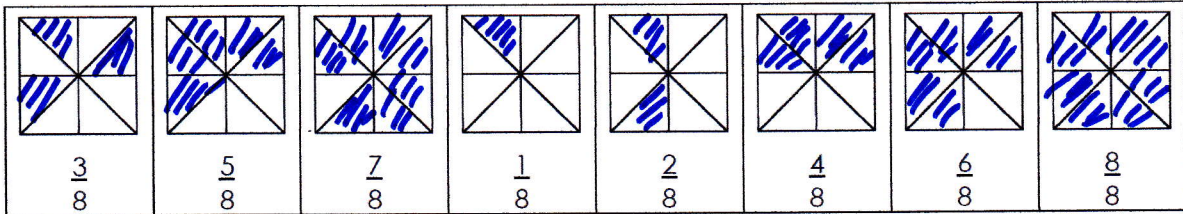


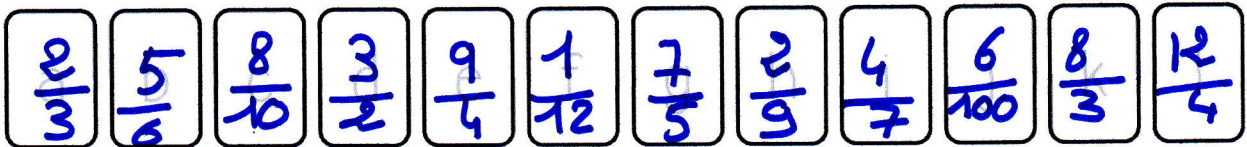
Mathématiques CM2

1./ Colorie la partie demandée de chacune de ces figures :

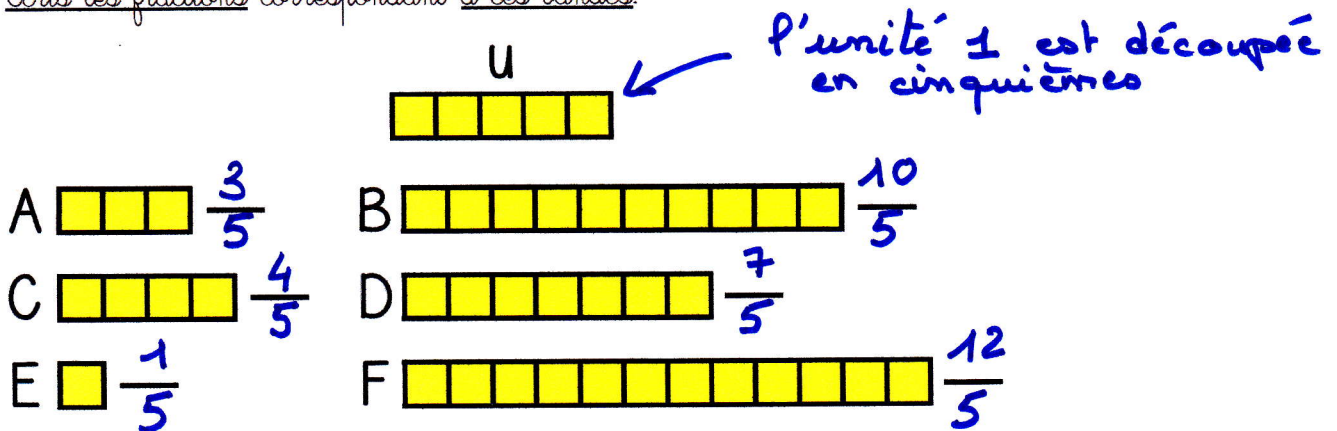


Ecris en chiffres.

- | | | | |
|------------------|----------------|---------------------|------------------|
| a) deux tiers | d) trois demis | g) sept cinquièmes | j) six centièmes |
| b) cinq sixièmes | e) neuf quarts | h) deux neuvièmes | k) huit tiers |
| c) huit dixièmes | f) un douzième | i) quatre septièmes | l) douze quarts |



Ecris les fractions correspondant à ces bandes.



*Connaissance des nombres :

Range ces planètes de la plus proche à la plus éloignée du Soleil.

Planète	Distance du Soleil en km
Jupiter	778 300 000
Mars	227 900 000
Mercure	57 900 000
Neptune	4 497 070 000

57 900 000
227 900 000
778 300 000
4 497 070 000