



Calcul mental

- Compteur (le résultat est le seul support visuel)
- Soustractions mentales

2

7

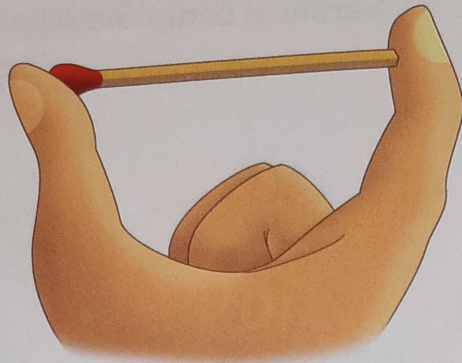
3

4

2

Observe.

La longueur entre ces deux doigts est de 1 allumette.



A


Détache la règle graduée en allumettes qui se trouve à la fin de ton fichier.

Montre entre tes doigts des longueurs de :

- 1 allumette ;
- 2 allumettes ;
- 3 allumettes ;
- 4 allumettes.

B

Avec ta règle graduée en allumettes, **mesure** les longueurs des traits suivants et **complète** les phrases (tu peux utiliser la liste des couleurs page 87).



Le trait vert est long comme 1 allumette.

Le trait rose est plus long que 1 allumette et moins long que 2 allumettes.

Le trait orange est long comme 2 allumettes.


Le trait bleu est plus long que 2 allumettes et moins long que 3 allumettes.

Le trait rouge est long comme 3 allumettes.

C

Calcule. De combien ça dépasse 10 ?

Si tu n'es pas sûr(e), dessine et efface après chaque calcul.



$8 + 3 = 11$

$7 + 6 = 13$

$5 + 9 = 14$

$8 + 6 = 14$

$4 + 9 = 13$

$9 + 7 = 16$

$7 + 4 = 11$

$8 + 5 = 13$

$8 + 4 = 12$

D

Compteur (le résultat est le seul support visuel) : l'enseignant écrit 56 au tableau, par ex., et il demande : « moins 10 ». Quand les élèves ont montré leur résultat, le nombre écrit au tableau est actualisé en remplaçant le « 5 » de 56 par un « 4 ».

Soustractions mentales : l'enseignant anime la situation d'anticipation de la sq 62.

A L'usage d'une règle dont l'étalon est l'allumette prépare la compréhension de la mesure en cm (les deux règles mettent en relief la longueur entre deux traits de graduation, grâce au dessin d'une allumette dans un cas et d'une bande colorée de 1 cm dans l'autre). On établira l'équivalence entre les expressions « est long comme n allumettes » et « mesure n allumettes ».

La lettre a
a - ai - ain
au, eau - an, am

date : lundi 23 mars

1 Colorie selon le code : a ai ain .

pain bazar Cameroun vaincre ça
aime bain africain fait avalait

2 Colorie selon le code : au eau an am .

haut vacances jaune beau danger jambe
épaule ambulance château mangeur

3 Entoure le mot qui correspond à chaque dessin.



salade

sandale


sauter



lampe

lama

loupe



chaise

chaude

chaîne



cadeau

capot

crapaud

4 Écris le mot qui correspond à chaque dessin en utilisant les groupes de lettres données.

ain



le gnome

ai



de la laine

an



le panda

eau



un bateau

cette plus pour mon que avec et qui
con. très je j'ai son le la des un
unno

le mardi 27 mai

→ 20h30 je suis allé à la messe de 20h
marchant pendant la messe avec
un ami.