



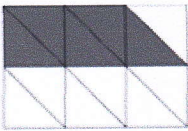


Exercice :

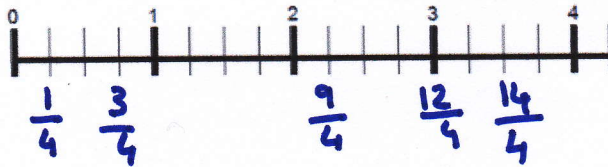
Ecris les fractions en chiffres puis en lettres, comme l'exemple :

	$\frac{1}{3}$	un tiers
	$\frac{1}{3}$ ou $\frac{3}{9}$	un tiers trois - neuvièmes
	$\frac{3}{6}$ ou $\frac{1}{2}$	trois sixièmes ou un - demi
	$\frac{6}{10}$	six - dixièmes
	$\frac{5}{12}$	cinq - douzièmes

Exercice :

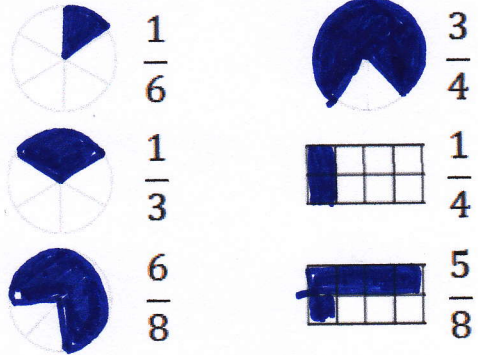
Place sur la droite graduée :

$$\frac{1}{4}, \frac{3}{4}, \frac{9}{4}, \frac{12}{4}, \frac{14}{4}$$




Exercice :

Colorie pour obtenir la fraction indiquée :



Exercice :

Colorie pour obtenir la fraction indiquée :



Exercice :

Place sur la droite graduée :

$$\frac{1}{10}, \frac{3}{10}, \frac{15}{10}, \frac{21}{10}, \frac{7}{10}$$

